

※科目代號為05，試卷共有4面，請將正確答案用2B鉛筆畫在答案卡上，否則不予計分。

※選擇題【共 50 題，一題 2 分】

◆依據圖一內容，回答 1~2 題：

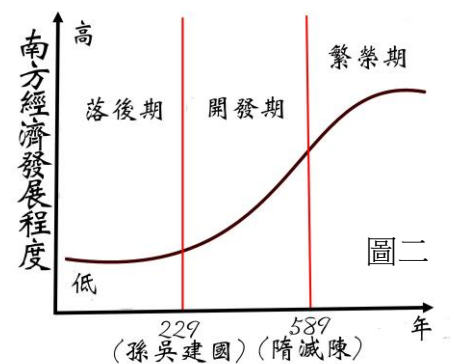
- 圖一中劉伶與他的朋友不拘禮法、喝酒縱歌，當時這群人忽視禮教、崇尚玄虛，他們應該是哪一時代的人物？(A) 秦朝 (B) 漢朝 (C) 魏晉南北朝 (D) 唐朝
- 劉伶等人這種放蕩不羈的人生觀，可能是下列哪一原因造成的？(A) 經濟蓬勃 (B) 政治混亂 (C) 文化交流 (D) 儒學興盛
- 中國歷代統治針對人才的需求發展出不同制度。請問：下列哪一種取才制度出現最晚？(A) 貴族世襲 (B) 舉薦孝廉 (C) 科舉制度 (D) 九品官人法
- 南朝《世說新語》一書在〈新亭對泣〉這篇文章描寫著當時北方被胡人佔據後，過江南下的大臣約在新亭喝酒吃飯，大家感嘆山河已非昔日風景。請問：他們是因哪一事件而被迫過江到南方？(A) 黃巾之亂 (B) 永嘉之禍 (C) 安史之亂 (D) 黃巢之禍
- 資料一：史學家們認為「西元 494 年，孝文帝自平城遷都洛陽，積極從事漢化。孝文帝遷都洛陽之動機，兼有政治、軍事、經濟、文化諸因素…。故孝文帝之遷洛，其主旨在興文治，易風俗」。資料二：司馬光云：「魏主以平城地寒，六月雨雪，風沙常起，將遷都洛陽；恐群臣不從，乃議大舉伐齊，欲以協衆」，故《資治通鑑》強調當時異常寒冷的氣候是孝文帝南遷的主因。請問：我們應該如何解讀資料一與資料二最適當？(A) 兩者以不同事件立論，自然觀點不同 (B) 兩者使用不同論點，但達到相同結論 (C) 兩者針對相同議題，表達不同看法 (D) 兩者使用相同的理論，但談不同的事件
- 西晉時，因為大行封建使諸王割據一方，他們野心甚大且擁兵自重，加上賈后亂政，最後引發哪場亂事，導致政治更加混亂，五胡乘機興起？(A) 八王之亂 (B) 赤壁之戰 (C) 永嘉之禍 (D) 安史之亂

天地是我的房屋，房屋是我的衣褲，你們為什麼要鑽進我的褲襠裡？



圖一

- 圖二顯示中國南方地區的經濟發展程度變化，西元 589 年後江南更為繁榮，餘糧可供應北方與關中地區，其中什麼因素有助軍政北方與經濟繁榮南方結為一體？(A) 飛錢的發明 (B) 運河的開通 (C) 天可汗體系 (D) 市舶司制度
- 王翰〈涼州詞〉寫「葡萄美酒夜光杯，欲飲琵琶馬上催」來描述邊疆風光，實際上葡萄、琵琶這些來自西域的產物，應該是何時之後陸續傳入中國？(A) 秦朝 (B) 漢朝 (C) 北朝 (D) 唐朝
- 佛教傳入中國後，融合中國文化逐漸形成具中國特色的宗教，下列何者可以說明佛教中國化的現象？(A) 蓋佛寺建石窟 (B) 帝王虔誠信奉 (C) 禪宗宗派成立 (D) 玄奘西天取經
- 「這座城市人口大約一百萬，外國人可能就佔了三分之一，城市內規劃出一百多個坊，除了皇城外還有東西兩側市場，並且夜間實施宵禁，這座城市還有不少佛寺，也可見外國人騎乘駱駝組成樂隊表演」，這種畫面應該會出現在哪一朝代的城市？(A) 漢代敦煌 (B) 曹魏洛陽 (C) 隋代大興 (D) 唐代長安



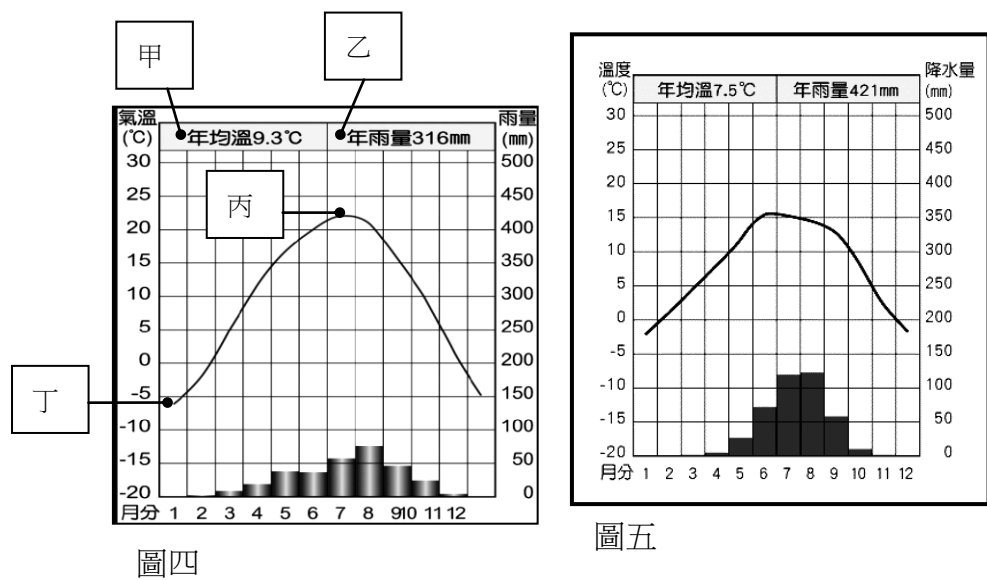
圖二

- 東漢末年群雄並起，最後演變成圖三這種政治局勢。請問：三國鼎立的建國順序應為何？(A) 丙→甲→乙 (B) 乙→丙→甲 (C) 甲→乙→丙 (D) 甲→丙→乙
- 唐朝後期遭遇黨爭、藩鎮、民變等一連串亂事，但是黃巢之亂可說是致命一擊，主要原因為何？(A) 嚴重破壞江南經濟 (B) 官僚衝突使政治惡化 (C) 將領擁重兵不聽號令 (D) 導致外族壯大不受控制

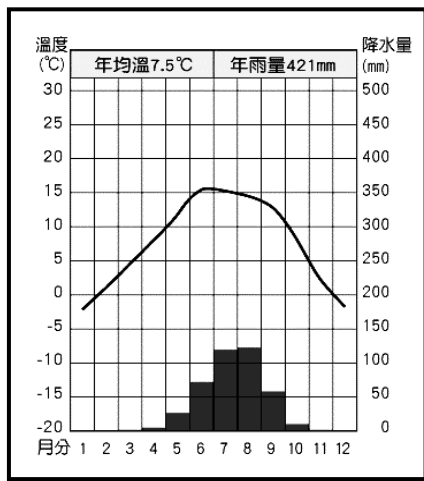


圖三

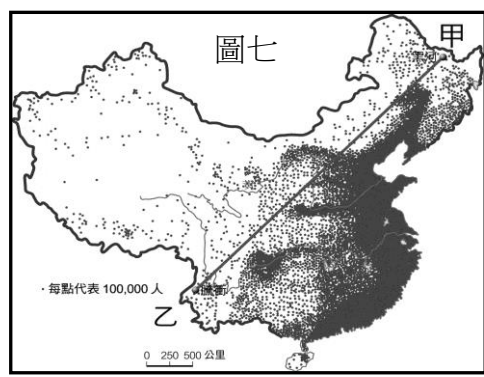
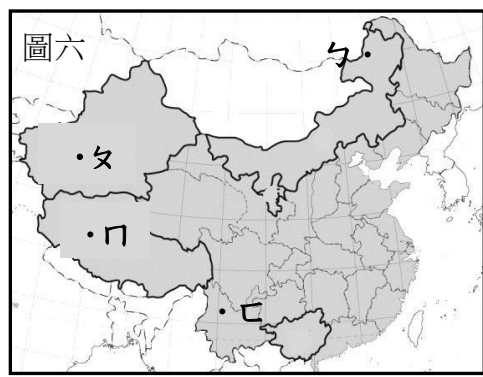
- 杜甫的〈憶昔〉裡寫道：「憶昔開元全盛日，小邑猶藏萬家室。稻米流脂粟米白，公私倉廩俱豐實。九州道路無豺虎，遠行不勞吉日出。齊紈魯縞車班班，男耕女桑不相失。官中聖人奏雲門，天下朋友皆膠漆。」可窺見唐代開元之治的光景。請問：當時為哪一皇帝主政？(A) 唐太宗 (B) 唐高宗 (C) 武則天 (D) 唐玄宗
- 從秦始皇創建皇帝制度，實施中央集權，理論上權力集中一人之手，可是從歷代政治發展可發現皇帝權力會受不同勢力的侵奪，例如唐代後期，皇帝的權位便最常遭哪種人操控？(A) 權臣 (B) 外戚 (C) 宦官 (D) 皇后
- 有人說魏晉南北朝盛行的世族社會，其實在漢朝時已埋下因子。請問：此「因子」為何？(A) 因經學傳家，形成累世當官的世家大族 (B) 末年因群雄並起，世族挾天子以令諸侯 (C) 獎勵工商發展，導致世族掌控經濟利益 (D) 戰亂頻傳，世族遷往南方穩定政局
- 多數學者認為因怛羅斯之役中國造紙工匠被俘，使得中國造紙術西傳。請問：這場戰役唐朝是與何國作戰？(A) 新羅 (B) 日本 (C) 吐蕃 (D) 阿拉伯



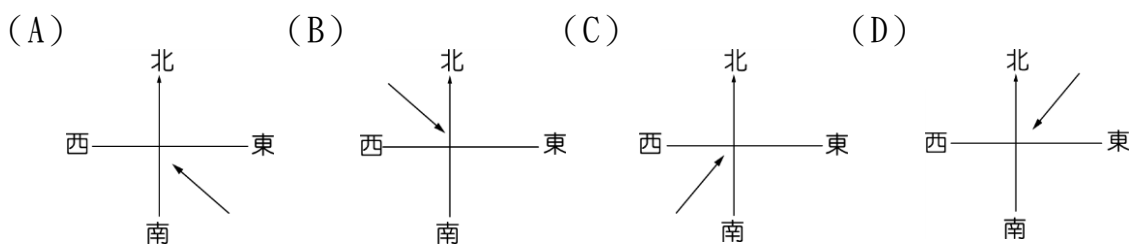
圖四



圖五



17. 要分辨沙漠與草原氣候，應從圖四中哪一項資料來進行判斷？(A) 甲 (B) 乙 (C) 丙 (D) 丁
18. 新疆的地理環境上有許多「中國之最」，下列何者「錯誤」？(A) 中國最大鹹水湖所在 (B) 擁有中國最大溫帶沙漠 (C) 中國最長內流河分布地 (D) 面積最大省級行政單位
19. 青藏高原區畜牧活動發達，但藏南縱谷因夏季季風帶來較豐富的降雨，年雨量可達 500mm 種植青稞(青殼的小麥)，故藏族人以青稞做成的糌粑為主食。請選出上文中正確的季風風向圖？



20. 圖五是中國某地氣候圖，以下關於此圖的敘述何者正確？(A) 從年雨量可知此地為草原氣候 (B) 年均溫介於 0-18 度之間，屬於副熱帶區 (C) 從最冷月氣溫判斷，此地位於秦嶺以南 (D) 從最暖月氣溫判斷，此地位於 3000 公尺以上地區
21. 以下四個敘述，何者是氣候影響人類活動的最佳寫照？(A) 東北滿族建造高腳屋，來隔絕地面寒氣入侵 (B) 北方人飲食口味偏辣，來因應嚴寒冬季 (C) 黃土高原因降雨少，居民就地取材興建窯洞居住 (D) 蒙新地區氣候乾燥，常以犛牛作為主要交通工具
22. 中國某地因地形崎嶇、交通阻隔、族群往來不易，是中國少數民族最多元的地區。這裡所指的「某地」位於圖六中何處？(A) ㄅ (B) ㄆ (C) ㄇ (D) ㄎ
23. 「朝穿皮襖午換紗，抱著火爐吃西瓜」此諺語最符合圖六中何地的氣候特色？(A) ㄅ (B) ㄆ (C) ㄇ (D) ㄎ

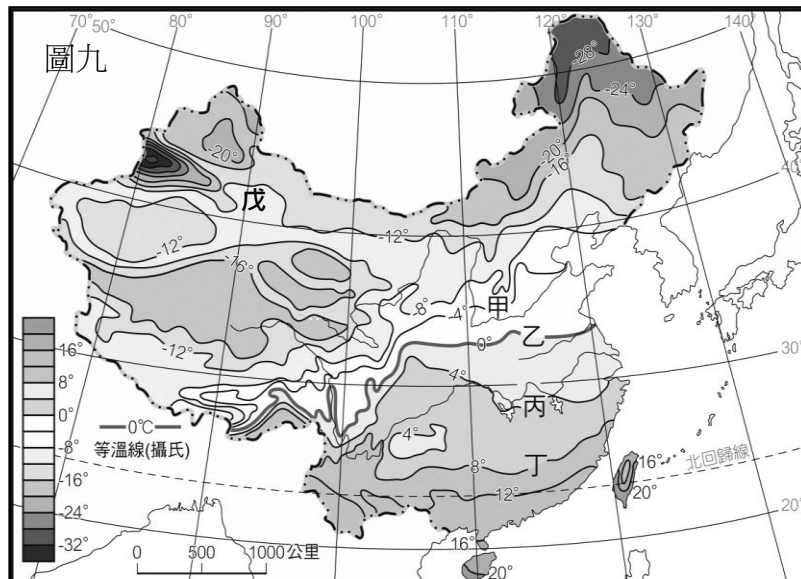
24. 圖七是中國人口分布圖，請仔細觀察並找出關於此圖的正確敘述？(A) 少數民族族系眾多 (B) 都市集中在東半部 (C) 人口稀疏區均屬沙漠氣候 (D) 人口疏密的界線與 750mm 等雨量線吻合
25. 「中國因地形西高東低，大河多向東入海，因此興建南北向的京杭大運河來彌補南北水運的不足」。台灣哪一項交通建設的興建目的與上述例子最相似？(A) 台中港 (B) 雪山隧道 (C) 花東鐵路 (D) 中山高速公路

◆中國國家氣象局發布「2012 年城市炎熱榜」，前十名依序是重慶、福州、杭州、南昌、長沙、武漢、西安、南京、合肥與南寧，近 50 年大陸氣候明顯變化，隨都市化發展加快，熱島效應日趨明顯。請依圖八回答 26-27 題：

26. 以上都市大多位於哪一條流域上？(A) 黃河 (B) 淮河 (C) 長江 (D) 珠江
27. 榜單上北方城市比南方少的最主要因素為何？(A) 緯度高低 (B) 地勢起伏 (C) 距海遠近 (D) 季風風向

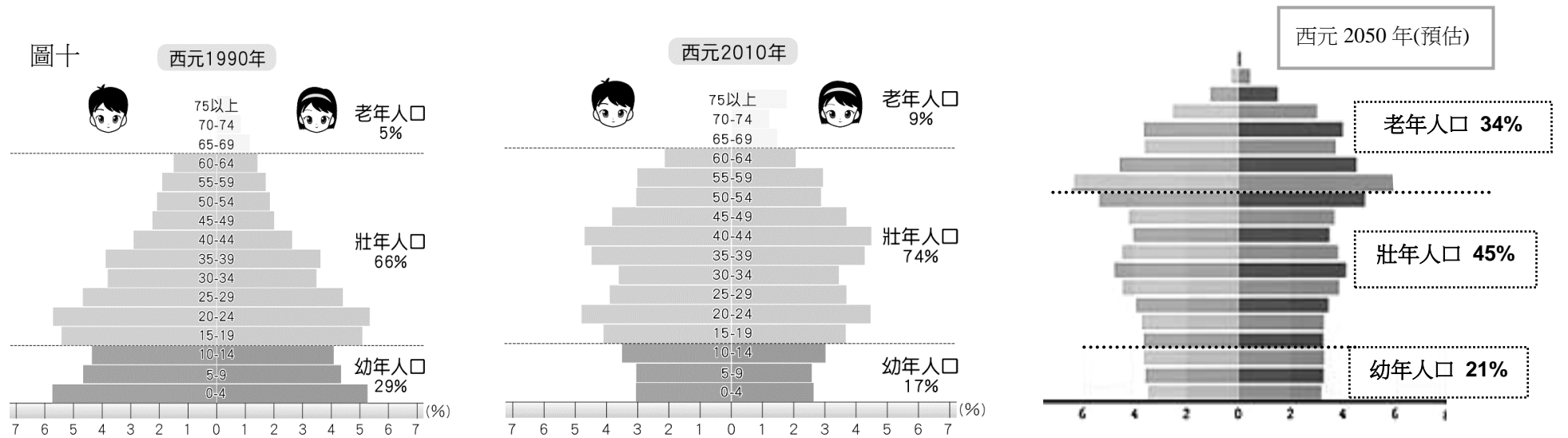
◆圖九是中國某月月均溫等溫線圖，請依圖回答 28-30 題：

28. 「南船北馬」、「南稻北麥」等諺語中的南、北界線，最接近圖九中哪一條等溫線？(A) 甲 (B) 乙 (C) 丙 (D) 丁
29. 從丁地往戊地直線前進，哪一個氣候項目的數值會越來越大？(A) 年溫差 (B) 年均溫 (C) 一月均溫 (D) 七月均溫
30. 此時的青藏高原會發生的天氣狀況，何者正確？(A) 暖濕的印度洋季風為本區帶來降水 (B) 等溫線受緯度影響呈平行排列，越北數值越低 (C) 大地一片銀白世界，最低溫介於 -16~-20 度之間 (D) 強烈冷高壓籠罩，寒流由此向東南吹向太平洋



◆中國目前人口結構明顯畸形，嚴重少子化與過度高齡化並存，為盡速改善現狀，中共 18 屆五中全會通過了「十三五」規畫，其中最受矚目的新政策，就是允許所有夫婦都可以生 2 個孩子，結束實施 35 年的一胎化政策。請參考圖十回答 31-33 題：

31. 嚴重少子化和過度高齡化是導致中國淨勞動年齡人口不斷減少的主因，近幾年來勞動年齡人口以每年數百萬的幅度快速減少，導致中國勞動力市場嚴重匱乏。以下哪個現象與上述情形關係最密切？(A) 貧富差距持續擴大 (B) 文盲比例下降，人口素質提高 (C) 中國台商陸續將工廠移至東南亞 (D) 都市人口回流鄉村，都市化程度下降
32. 「開放二胎」主要是為了解決「一胎化」所衍生的人口問題，此政策對以下哪個人口問題助益最大？(A) 減少都市盲流 (B) 均衡人口分布 (C) 提升人口素質 (D) 平衡性別比例
33. 圖十是中國西元 1990、2010 與 2050 年(預估)的人口金字塔圖，依據圖中資料研判，中國哪一項人口數值曲線呈現「先降後升」的狀況？(A) 性別比 (B) 扶養比 (C) 人口總數 (D) 勞動人口比例



34. 禮昱和家人一起去吃火鍋，圖十一是結帳後店家所開發票的一部份，發票上的稅額(圓圈處)的課徵，是依據經濟學的何種概念而設定的？(A) 公共財 (B) 外部效果 (C) 受益原則 (D) 負擔能力原則
35. 目前我國高速公路全面採計程電子收費，人工收費已全面走入歷史。請問：高速公路通行費屬於政府何項收入？(A) 租稅 (B) 規費 (C) 財產收入 (D) 公營事業收入
36. 民國 86 年修憲後，將台灣省政府予以虛級化。下列關於省政府虛級化的敘述，何者正確？
(A) 省虛級化後，已不再具有地方自治團體的性質 (B) 省諮議員改由行政院長提名立法院同意 (C) 省主席改為省長，省議員改為省諮議員 (D) 省政府成為立法院的派出機關
37. 經費的多寡往往影響各地的自治成效，其中地方稅收為地方政府的經費來源之一，下列哪項租稅是屬於地方稅？(A) 關稅 (B) 所得稅 (C) 營業稅 (D) 汽機車使用牌照稅

商品	數量	金額
菜滷蹄-低脂牛肉	2	436
單點-SPA蛤蜊	1	50
滷肉飯	2	40
金針菇	1	20
蛋餃	1	20
炸豆角	1	20
烏龍麵	1	10
滷肉飯	1	10
泡麵	1	5
菜滷蹄-菜盤	2	
石頭鍋	2	
檸檬冬瓜冰沙	2	
免費-檸檬冬瓜冰沙	2	
小計		611
銷售總額		611
稅額		29
未稅額		582
現金		611

圖十一

38. 今年南部登革熱疫情嚴重，行政院衛生福利部疾病管制署成立中央流行疫情指揮中心，統籌防疫資源調度，地方政府亦積極配合中央防疫措施對民眾進行宣導。上述情形為何項政治制度之表現？(A) 地方自治 (B) 均權制度 (C) 權力分立 (D) 主權在民
39. 為解決國家財政壓力，政府開始採用「民間參與公共建設」的模式(即所謂 BOT)，試問：下列哪項建設是採用 BOT 模式興建營運？(A) 101 大樓 (B) 漢神百貨 (C) 台灣高鐵 (D) 農十六公園
40. 圖十二為一則新聞報導，根據內容判斷，此爭議依憲法應由下列哪個政府單位出面解決？(A) 總統 (B) 行政院 (C) 立法院 (D) 司法院
41. 高雄市公共腳踏車 City Bike 於 10 月 5 日全面換新裝，車體由綠色改為海洋藍。下列選項為高雄市政府公共腳踏車換裝政策之經費執行步驟，其中何者「錯誤」？(A) 高雄市政府提出經費預算→ (B) 立法院審查經費預算→ (C) 高雄市政府執行預算→ (D) 高雄市審計處審核決算

新聞快報

2014 年 731 高雄氣爆事件，引發中央與高雄市政府對於工業管線管理權責的爭議，行政院經濟部表示...

圖十二

◆歲月匆匆，轉眼間將赫已國中畢業 20 年了，將赫和高瑀在國中同學會上再度重逢，兩人交談甚歡，讓將赫頗有「眾裡尋他千百度，驀然回首，那人卻在燈火闌珊處」之感，於是將赫對高瑀展開熱烈追求...請回答第 42-50 題：

42. 將赫為了博得女友高瑀歡心，於是買了一台價值新台幣 300 萬元進口跑車送給高瑀當生日禮物，也因此額外繳了 30 萬元的奢侈稅。請問：政府課徵奢侈稅的目的為何？(A) 提供公共財 (B) 處理外部效益 (C) 維持經濟秩序 (D) 改善所得分配
43. 承上題，將赫所繳交的 30 萬元奢侈稅是屬於哪一類的租稅？(A) 規費 (B) 所得稅 (C) 財產稅 (D) 銷售稅

44. 將赫買車送高瑀後，擔心牌照稅稅金對高瑀而言是否負擔過重。所以他上網搜尋了我國自用小客車使用牌照稅稅額，如表一。根據表中資料判斷，我國自用小客車使用牌照稅稅額的多寡，是根據經濟學上何種概念而設計的？(A) 公共財 (B) 外部效果 (C) 受益原則 (D) 負擔能力原則

表一

汽缸總排氣量 (立方公分)	稅 額
1201~1800	7120
1801~2400	11230
2401~3000	15210

45. 將赫事業有成後，想貢獻一己之力回饋社會，所以他決定投入下一屆市議員選舉，為民喉舌。圖十三為他的競選總幹事冠銘所擬定的競選政見，那一項是「錯誤」需修正的？

圖十三 將赫議員參選政見說明

(A) 為民把關，好好審查市府預算
 (B) 監督市政，督促市府提升效率
 (C) 增設地方法院，方便民眾訴訟
 (D) 爭取國中小營養午餐全面免費

46. 冠熹在同學會上向將赫借了 10 萬元後，一直未還，而且還避不聯絡，將赫只好寄存證信函給冠熹以維護自己的權益。但健忘的將赫卻忘了冠熹的完整地址，只依稀記得部分，如圖十四。圖中○○○處最有可能為下列何者？(A) 台南市 (B) 新竹縣 (C) 花蓮市 (D) 南投市

圖十四

○○○明華區英雄路 1 號

李冠熹 先生收

47. 將赫與高瑀結為連理後，表二是將赫幸福小家庭上一年度的家庭收支表，根據表中內容判斷，屬於政府收入項目的金額有多少？(A) 293600 元 (B) 303600 元 (C) 313600 元 (D) 333600 元

表二

項 目	金額 (元/年)
所得稅	15萬
地價稅	5000
房屋稅	12000
電費	2萬
高鐵交通費	1萬
違規罰單	3600
申請護照費用	3000
買政府公債	10萬
壽險保費	2萬

48. 元旦連續假期將赫計畫帶愛妻高瑀同遊基隆，品嚐當地廟口小吃，重溫兩人初相識時的甜蜜時光。請問：下列哪一景點所在的「行政區域」與基隆市屬同一地方政府層級？(A) 「花蓮市」的松園別館 (B) 「台北市」的 101 大樓 (C) 「苗栗縣」的大湖草莓館 (D) 「彰化市」八卦山大佛

49. 將赫與高瑀兩人搭 (甲) 具有公共財性質的公車 在基隆市區到處趴趴走，看見 (乙) 基隆市公所 張貼的宣導海報，內容是有關生育補助金，這是屬於地方政府 (丙) 社會服務 方面的工作。還看到了警察一邊取締違規停車一邊疏導堵塞的車輛，辛苦地處理因違規停車所造成的 (丁) 外部效果。關於上述兩人的所見所聞，畫線處何者正確？(A) 甲乙 (B) 乙丙 (C) 乙丁 (D) 丙丁

50. 相愛容易、相處難，將赫與高瑀因個性上無法解決的歧異，決定離婚，讓愛自由。請問：這兩人應至何處完成離婚手續？(A) 地方法院 (B) 律師事務所 (C) 離婚事務所 (D) 戶政事務所

※試題結束※